

ورقة عمل للدرس: قراءة وكتابة الأعداد المكونة من 3 أرقام

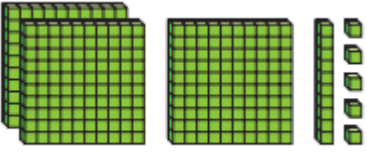
المادة: الرياضيات الصف: الثاني

الشعبة:

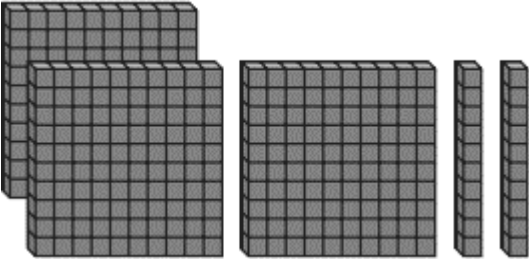
اسم الطالب:

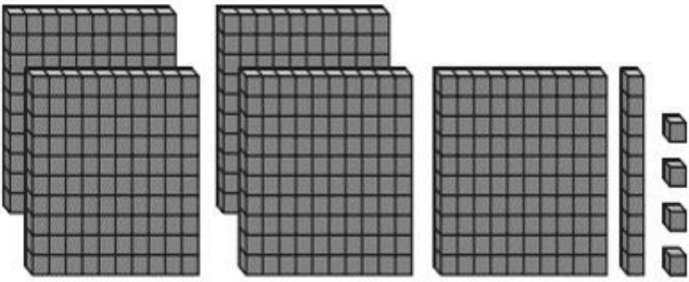
تعليمات: اختر الإجابة الصحيحة لكل من الأسئلة من 1 إلى 2، وذلك بوضع علامة × داخل المربع المجاور للإجابة الصحيحة:

السؤال (1)	
ما الصيغة التحليلية للعدد 841؟	
A	$400 + 80 + 1$
B	$800 + 40 + 1$
C	$900 + 40 + 8$

السؤال (2)	
ما الصيغة القياسية للعدد الممثل في النموذج : 	
A	315
B	ثلاثمائة وخمسة عشر
C	$300+10+5$

تعليمات: عند الإجابة على الأسئلة من 3 إلى 4، اكتب إجاباتك في المساحات المخصصة لذلك.

السؤال (3)	
أكتب النموذج الآتي بالصيغة القياسية والتحليلية واللفظية:	
	
الصيغة القياسية :	
+ + : الصيغة التحليلية :	
: الصيغة اللفظية :	

السؤال (4)	
أكتب النموذج الآتي بالصيغة القياسية والتحليلية واللفظية:	
	
..... : الصيغة القياسية :	
..... + + : الصيغة التحليلية :	
..... : الصيغة اللفظية :	

واجب للدرس : إعادة تجميع عشرة واحدة إلى 10 آحاد

المادة: الرياضيات الصف: الثاني

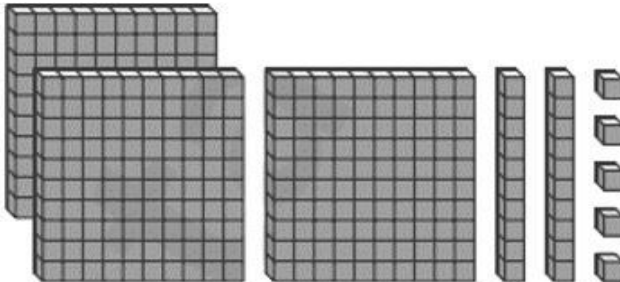
الشعبة:

اسم الطالب:

تعليمات: اختر الإجابة الصحيحة لكل من الأسئلة من 1 إلى 1، وذلك بوضع علامة × داخل المربع المجاور للإجابة الصحيحة:

السؤال (1)	
يوجد في حديقة حيوانات 217 طائراً و 251 حيواناً من الزواحف. ما الصيغة التحليلية لعدد الزواحف؟	
A	$200+10+7$
B	$200+70+1$
C	$200+50+1$

تعليمات: عند الإجابة على الأسئلة من 2 إلى 2، اكتب إجاباتك في المساحات المخصصة لذلك.

السؤال (2)	
أكتب النموذج الآتي بالصيغة القياسية والتحليلية واللفظية:	
	
الصيغة القياسية:	
الصيغة التحليلية: + +	
الصيغة اللفظية:	